

ZAJĘCIA WYRÓWNAWCZE

KLASA 2

20 kwietnia 2020 r. (poniedziałek)

Jak łatwiej odejmować i dodawać (schemat).

$$\begin{aligned} & 32 - 17 = \\ & = 32 - 10 - 7 = \\ & = 22 - 7 = \\ & = 22 - 2 - 5 = \\ & = 20 - 5 = 15 \end{aligned}$$

$$\begin{aligned} & 2 + 6 + 8 + 9 = \\ & = 2 + 8 + 9 + 6 = \\ & = 10 + 9 + 6 = \\ & = 19 + 6 = \\ & = 19 + 1 + 5 = \\ & = 20 + 5 = 25 \end{aligned}$$

Oblicz i uzupełnij wg wzoru :)

$$25 - 18 = 7 \quad \longleftrightarrow \quad 18 + 7 = 25$$

$32 - 17 =$

$17 + \square = 32$

$27 - 19 =$

$19 + \square = 27$

$42 - 23 =$

$23 + \square = 42$

$37 - 14 =$

$14 + \square = 37$

$28 - 13 =$

$13 + \square = 28$

$35 - 14 =$

$14 + \square = 35$

$44 - 32 =$

$32 + \square = 44$

$19 - 5 =$

$5 + \square = 19$

$28 - 15 =$


$35 - 18 =$

$22 - 16 =$

$48 - 37 =$











$42 - 39 =$

$39 - 27 =$







Geometryczne dodawanie

Rozwiąż działania, pamiętając, że każdej figurze odpowiada jedna cyfra.
Aby ułatwić sobie zadanie, poszczególne liczby wpisuj do środka każdej figury.





									
1	2	3	4	5	6	7	8	9	10

A  +  +  +  =

B  +  +  +  =

C  +  +  +  =

D  +  +  +  =

E  +  +  +  =

F  +  +  +  =

